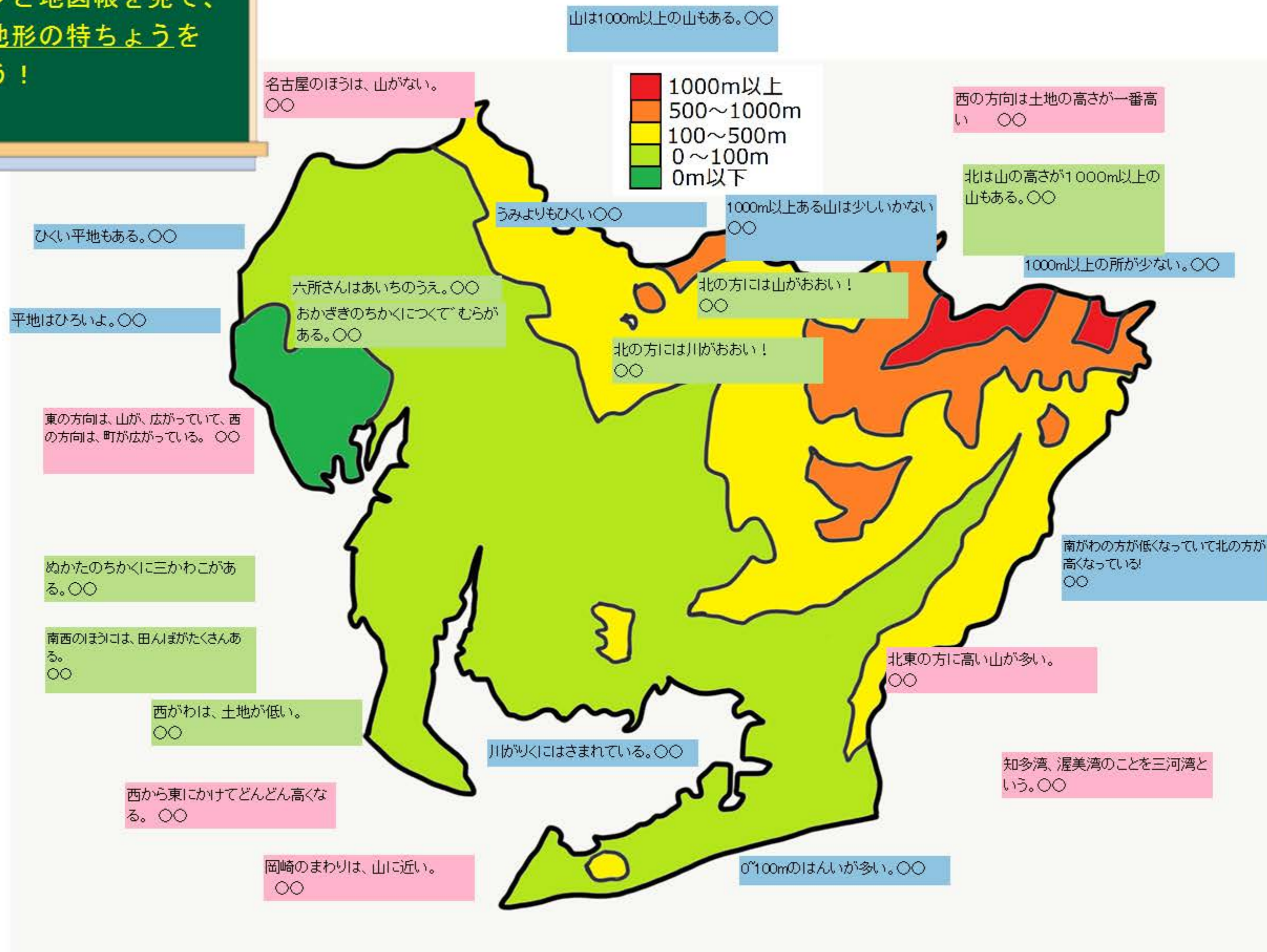


馬



地形マップと地図帳を見て、愛知県の地形の特ちょうを見つけよう！



# 愛知県の地形の持ちょうを 自分の言葉でまとめよう！

愛知県は西のほうは土地が低く、東のほうは、高くなっている。三河湾と同じようなところがある県はない。

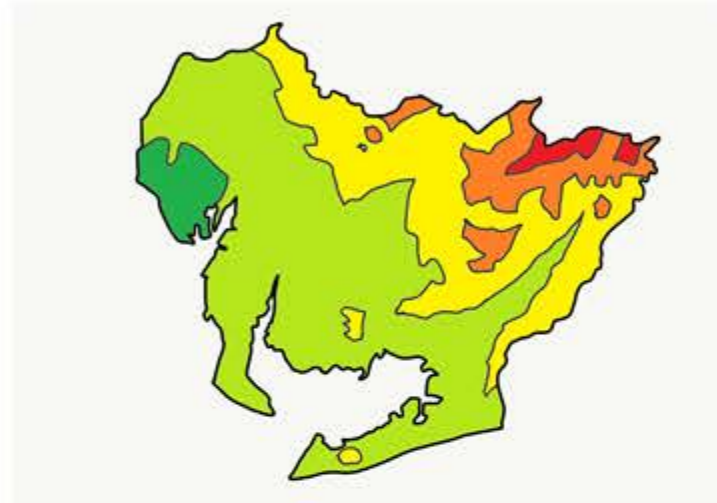
〇〇

愛知県は、東の方向は、土地が高く、西の方向は、土地が、低い！！

〇〇

愛知県の名古屋市の方は山がない

〇〇



愛知県のまわりには山が多い。

〇〇

愛知県は、東のほうは土地が高く、西がわと北西がわの土地は低い。

〇〇

愛知県の北には山がおおい！

〇〇

愛知県は、西と南いがつまりまん中が山が多い。

〇〇

愛知県は、北の方に向って山が多くなっていっている！

〇〇

愛知県は北に山が多い

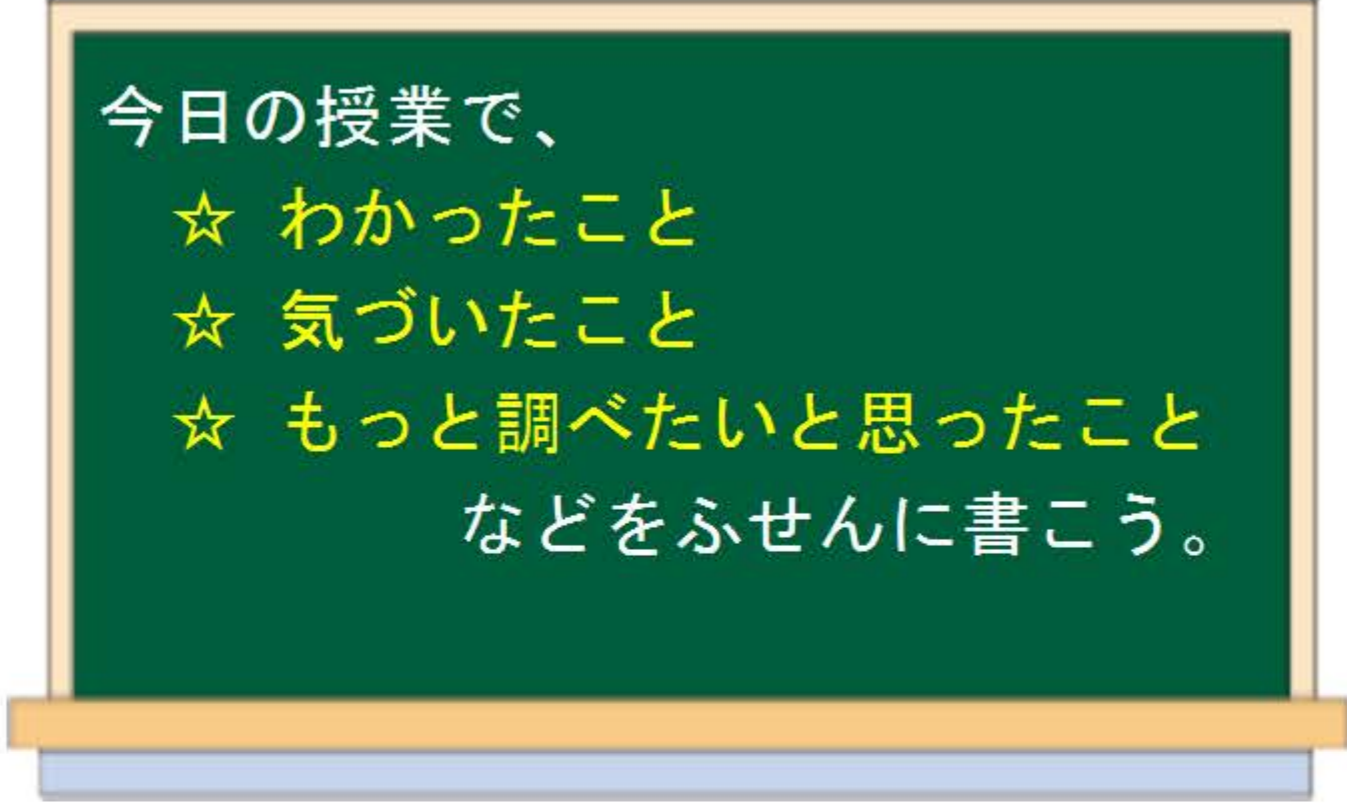
〇〇

愛知県ははんぶんは

〇〇



# 社会科日記



土地の高さは、西の方は土地の高さが低く東の方は土地の高が高い。  
三河湾のような所はほかの県にはないとは初めて知った。  
〇〇

西側は、オレンジや赤が、広がっていることが、分かった。  
〇〇  
東の方向は、土地の高さが低く、西の方向は高いことが分かった。  
〇〇

愛知県の高さが分かった。いろいろな高さのとちがわった。  
〇〇  
名古屋のほうにわやまがないことがわかった。  
〇〇

愛知県の高さを知れてよかったです。〇〇  
愛知県の山の高さをしれてよかったです。  
〇〇

土地の高さが北がわの方が高い事をはじめて知った。  
は山が多いことを知った愛知県の  
〇〇

あいちけんのことが々々わかった  
〇〇  
〇〇

山や高さをたくさんわかった。  
〇〇  
名古屋の中に山がないことをしりました。  
〇〇

北東がわが、高いとまとめてしまった。  
〇〇  
西のほうは土地が低いとまとめてしまった。  
〇〇  
〇〇

〇〇  
北の方が高かった！！  
〇〇

西側はひょうこうがひくくて北側はたかかった。  
ひょうこうがひくいところやたかいところがはんぶんぐらいだった  
〇〇  
〇〇



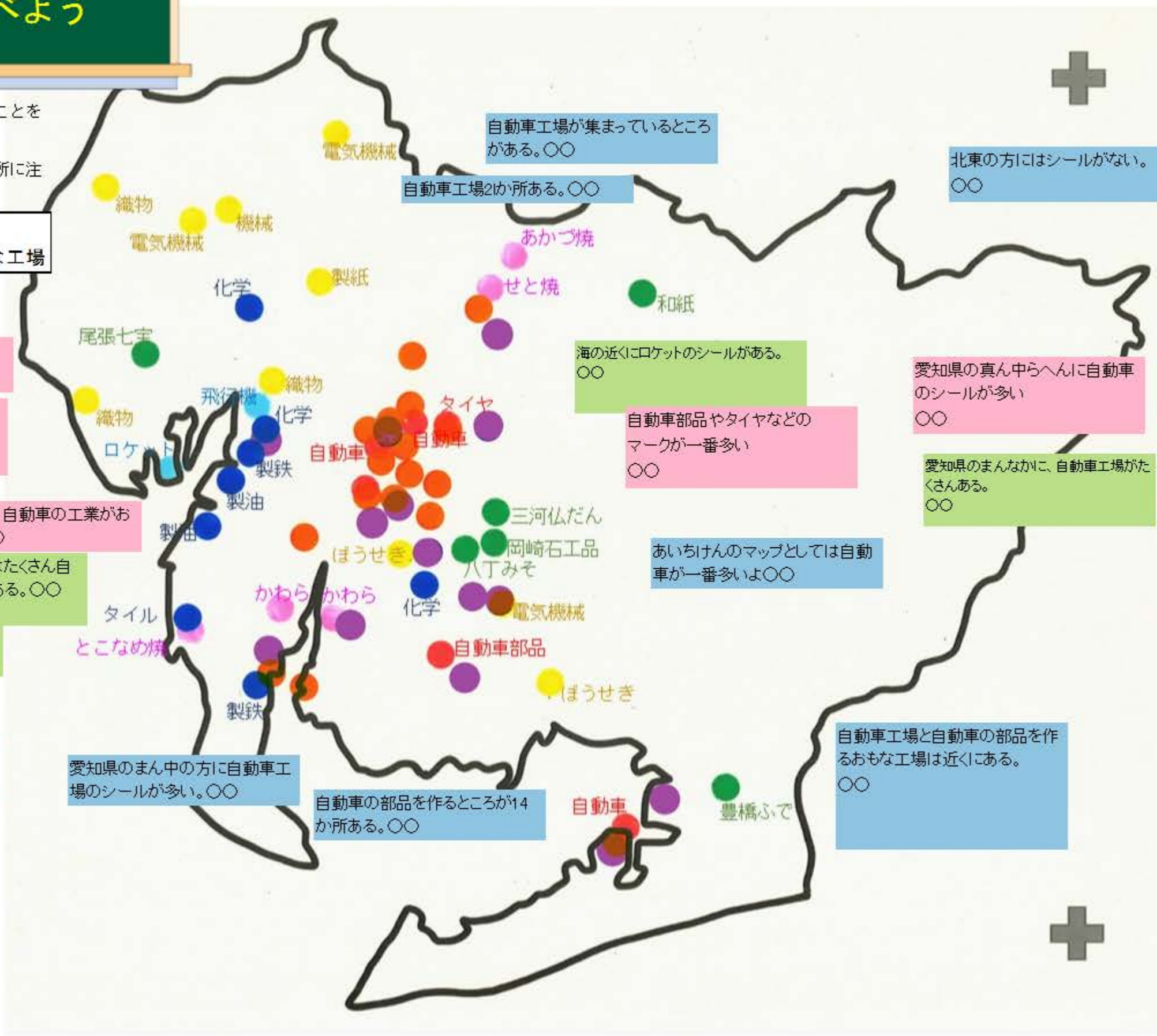
# 愛知県の工業の特ちょうを調べよう

工業…材料からモノを作る産業のこと。

◎愛知県の工業について、気づいたことを  
ふせんに書こう！

☆工業の種類ごとに見てみたり、場所に注  
目したりしてみよう！

- 自動車工場
- 自動車の部品を作るおもな工場



町のほうにたくさんある。  
○○

北西のほうに、機械、電気機械、  
製紙、織物が多い。  
○○

西の方向は、自動車の工業がお  
おい。○○

愛知県の近くのところにはたくさん自  
動車のシールがたくさんある。○○

青色のシールや水色のシールは  
うみぞいにある。○○

製油は、海に近  
い!!!

愛知県のまん中の方に自動車工  
場のシールが多い。○○

自動車の部品を作るところが14  
か所ある。○○

自動車工場が集まっているところ  
がある。○○

自動車工場2か所ある。○○

北東の方にはシールがない。  
○○

海の近くにロケットのシールがある。  
○○

自動車部品やタイヤなどの  
マークが一番多い  
○○

愛知県の真ん中らへんに自動車  
のシールが多い  
○○

愛知県のまんなかりに、自動車工場がた  
くさんある。  
○○

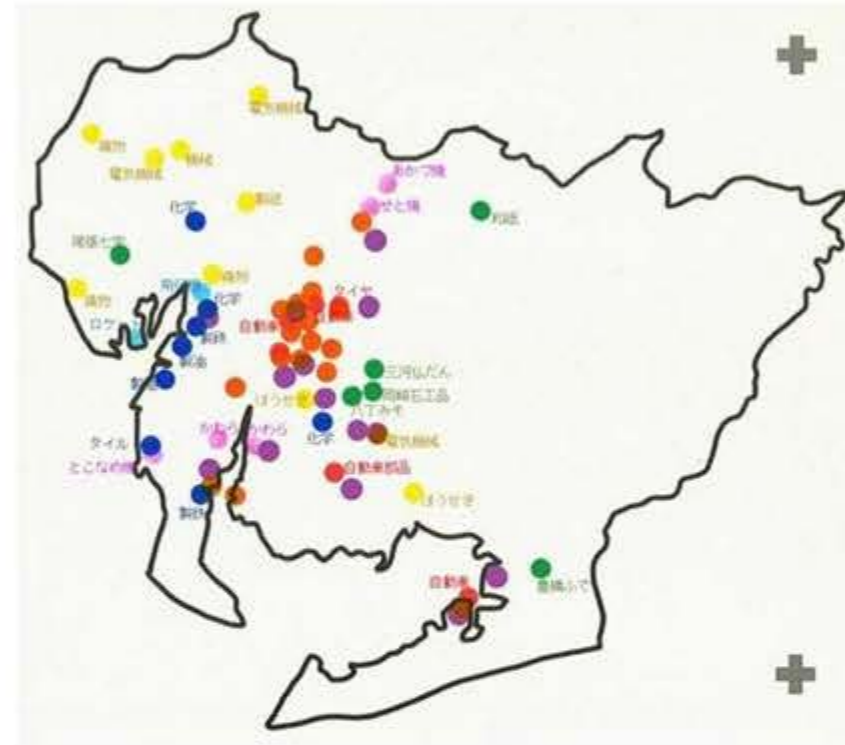
あいちけんのマップとしては自動車  
が一番多いよ○○

自動車工場と自動車の部品を作  
るおもな工場は近くにある。  
○○

# 愛知県の【工業】の特ちょうを自分の言葉でまとめよう！

愛知県 工業 盛ん

◎この3つの言葉を使ってまとめよう！



愛知県の工業は、自動車の工業が盛んで、一番多い。真ん中のまうにいっぱいあった。北東のまうにシールはない。

〇〇

愛知県の中で工業が一番盛んなのは、自動車だった事が分かった。

〇〇

愛知県では自動車産業が盛んだ。〇〇

〇〇

愛知県は、自動車工場が1番の工業でさかんだった。

〇〇

愛知県のまん中の方に自動車の工業が盛ん

〇〇

愛知県はしりょうからみて1位だでも工業マップをみると自動車やさかんだった。

〇〇

愛知県の所にたくさん自動車工業が盛んだことをした。〇〇

〇〇

愛知県は自動車工業が盛ん。〇〇

〇〇

愛知県の工業が一番さかんだと分かった！！  
〇〇

〇〇

愛知県の中で自動車の工業が盛んだったところは愛知県のまん中ぐら이었다。

〇〇



# 社会科日記

今日の授業で、

- ☆ わかったこと
- ☆ 気づいたこと
- ☆ もっと調べたいと思ったこと

などをふせんに書こう。

⇒次回は愛知県の市町村について調べていくよ！

写真だけでもだいたいどこにあるかが分かってよかった。

いろいろな市町村があった。

一番人口が多い市長村でも、面積はせまいところがあった。

真ん中のほうにたくさんあることが分かった。

〇〇

建物がたつ場所によって理由があることが分かった。

愛知県の市町村が、どこにあるか分かった。

一番人口が、おおいところは、名古屋市で、面積では豊田市がおおいことが分かった。

愛知県にいろいろな工業のことが分かった。

〇〇

いろいろ市町村

土地の高さがわかった。

しゃむらのとちの大きさがわかった 〇〇

市の人口や、面積の大きさが分かった。

あいちけんはじどうしゃさんぎょうがさかんだ 〇〇

〇〇

いろいろそこにたてた理由があった。〇〇

どこにどんな市があるか分かってよかった。〇〇

名古屋は人口は1番だけど面積は4番だとしました。〇〇

工業はまん中が1番およかった。

〇〇

愛知県のだいたい森林と岡崎市とぬかた市がくっついていることをはじめて分かった。

面積は広いのに人口が少ないところがあるというのをはじめて知った。

愛知県で1番多い工業は自動車工場が1番多いことをはじめて分かった。

〇〇

いろいろとわかったよ。〇〇

工業は愛知けんがタタいけど、いちばん多いぎょうは自動車だ。〇〇

面積や人口の数も分かんない。人口は名古屋がタタい。面積はとよたがひろい。

〇〇

あいちけんのところじどうしゃたくさんあることをした。〇〇

しんりんがたくさんあることをした。〇〇

しちょうそんのことしちょうそんのことをたくさんしてうれしかったです。〇〇

〇〇

花ばなけは、海の近くにあるとばかりはじめて分かった。〇〇

愛知県は自動車を作るのが盛んだとばかりはじめて分かった。〇〇

どこにどんな市町村があるかよくわかった。〇〇

人口が1番多いのは、名古屋市で、面積が1番大きいのは、豊田市とばかりはじめて分かった。〇〇

〇〇

愛知県に海があることがわかった！ 〇〇

海の

工業というのがあるのがはじめて分かってよかった！！ 〇〇

〇〇

〇〇

やまはあいちけんのはんぶんだた。

とよかわとかもくっついてたことがわかった。

おわり地方と三河地方があった。

工業生産がくは愛知県だった。

〇〇